

# A SCUOLA CON NOI

COMMISSIONE INTERCULTURALE  
6° Circolo Modena



**MATEMATICA**

**classe quarta**

**MATERIALI PER L'ACCOGLIENZA**

**A CURA DELLA COMMISSIONE INTERCULTURALE**

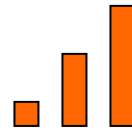
**6° CIRCOLO DI MODENA**

## Prove di matematica per l'inserimento in classe quarta

Obiettivo/Abilità	Numero scheda	Valutazione
Ordinare una serie di numeri entro ed oltre il 100	1	
Eseguire addizioni con un cambio	2	
Eseguire sottrazioni con uno e due cambi	2	
Eseguire moltiplicazioni con il moltiplicatore ad una e due cifre	2	
Eseguire divisioni	3	
Eseguire moltiplicazioni e divisioni con 10 - 100 - 1000	4	
Riconoscere e scrivere frazioni	5	

## Scheda 1

\* Metti in ordine i numeri dal più piccolo al più grande

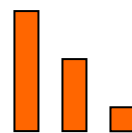


12      4      99      41      57      10      70      100      8

4

---

\* Metti in ordine i numeri dal più grande al più piccolo



87      519      7      999      123      98      677      15

999

---

## Scheda 2

\* Esegui le operazioni

$$\begin{array}{r} 56 + \\ 12 = \\ \hline \end{array}$$

68

$$\begin{array}{r} 234 + \\ 65 = \\ \hline \end{array}$$

$$\begin{array}{r} 48 + \\ 25 = \\ \hline \end{array}$$

$$\begin{array}{r} 133 + \\ 59 = \\ \hline \end{array}$$

$$\begin{array}{r} 98 - \\ 76 = \\ \hline \end{array}$$

22

$$\begin{array}{r} 45 - \\ 23 = \\ \hline \end{array}$$

$$\begin{array}{r} 465 - \\ 26 = \\ \hline \end{array}$$

$$\begin{array}{r} 756 - \\ 68 = \\ \hline \end{array}$$

$$\begin{array}{r} 34 \times \\ 6 = \\ \hline \end{array}$$

204

$$\begin{array}{r} 67 \times \\ 8 = \\ \hline \end{array}$$

$$\begin{array}{r} 475 \times \\ 7 = \\ \hline \end{array}$$

$$\begin{array}{r} 95 \times \\ 43 = \\ \hline \end{array}$$

## Scheda 3

### \* Esegui le operazioni

( Se vuoi usa lo spazio sottostante per mettere in colonna )

$12 : 4 = 3$

$42 : 6 =$

$56 : 7 =$

$72 : 3 =$

$126 : 7 =$

$234 : 9 =$

## Scheda 4

\* Esegui le operazioni

$$67 \times 10 = 670$$

$$73 \times 10 =$$

$$7 \times 100 =$$

$$5 \times 1000 =$$

\* \* \* \* \*

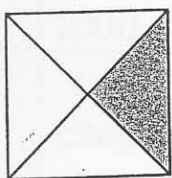
$$560 : 10 = 56$$

$$7000 : 10 =$$

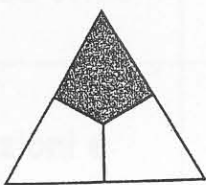
$$45000 : 100 =$$

$$300.000 : 1000 =$$

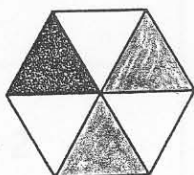
\* Scrivi il nome della frazione.



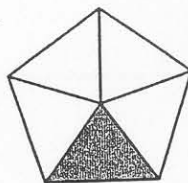
$$\frac{1}{4}$$



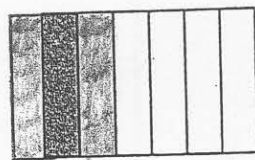
\_\_\_\_\_



\_\_\_\_\_

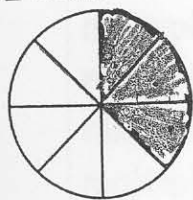


\_\_\_\_\_

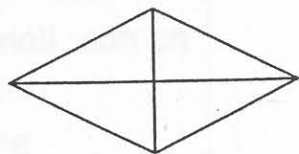


\_\_\_\_\_

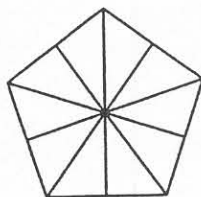
\* Colora la parte indicata.



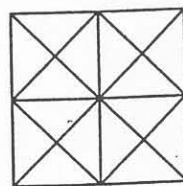
$$\frac{3}{8}$$




$$\frac{2}{4}$$



$$\frac{5}{10}$$



$$\frac{1}{16}$$



$$\frac{4}{9}$$